

ESCOLA MUNICIPAL PROFESSOR ERASMO PILOTTO EI/EF  
NOME: \_\_\_\_\_


TURMA: 3º ANO A

DATA: \_\_\_\_\_

PROFESSORA: ADRIANE

COMPONENTE: GEOGRAFIA

PERÍODO: 22-03 A 09-04



A ESCOLA É UM DOS ESPAÇOS DE VIVÊNCIAS QUE FREQUENTAMOS. NELA PASSAMOS BOA PARTE DO NOSSO TEMPO, TROCANDO EXPERIÊNCIAS COM PROFESSORES, COLEGAS DE SALA, FUNCIONÁRIOS, APRENDENDO E COMPARTILHANDO NOVOS CONHECIMENTOS.

### COMO É NOSSA ESCOLA?



### ATIVIDADE 1

VOCÊ SABIA QUE DIA 04 DE ABRIL FOI ANIVERSÁRIO DA NOSSA ESCOLA? ELA COMPLETOU 46 ANOS. IMAGINOU QUANTAS CRIANÇAS JÁ ESTUDARAM AQUI? SERÁ QUE ALGUÉM DA SUA FAMÍLIA CONHECE OU JÁ ESTUDOU NESSA ESCOLA? SE SIM COMPARTILHE ESSA HISTÓRIA REGISTRANDO NAS LINHAS ABAIXO.

---

---

---

---

SE VOCÊ É NOVO NESSA ESCOLA E AINDA NÃO A CONHECE, REGISTRE O QUE VOCÊ ACHOU DELA A PARTIR DAS IMAGENS OBSERVADAS.

---





---

---

---

### ATIVIDADE 2 - QUAL É A LOCALIZAÇÃO?

→ LINHA

<b>E</b>				
<b>D</b>				
<b>C</b>				
<b>B</b>				
<b>A</b>	<b>1</b>	<b>2</b>	<b>3</b>	<b>4</b>

COLUNA ↑


PRESTE ATENÇÃO NOS COMANDOS PARA LOCALIZAR AS IMAGENS.

1- ESTA FIGURA ESTÁ LOCALIZADA NA LINHA **D** COLUNA **3**. A FIGURA É: \_\_\_\_\_

2- ESTA FIGURA ESTÁ LOCALIZADA NA ÚLTIMA LINHA E COLUNA. A FIGURA É: \_\_\_\_\_

3- PARA ENCONTRAR ESTA FIGURA SAIA DO CAMPO DE FUTEBOL, ANDE DUAS CASAS PARA CIMA, PARE, VIRE À ESQUERDA E ANDE DUAS CASAS. A FIGURA É: \_\_\_\_\_

**ATIVIDADE 3- DESENHE NO LOCAL CORRETO CONFORME OS COMANDOS.**



- 1- EM FRENTE AO SAPO UMA LAGOA.
- 2- ATRÁS DO SAPO UMA ÁRVORE.
- 3- À DIREITA DO SAPO UMA PEDRA.
- 4- À ESQUERDA DO SAPO UM SOL.

FAÇAM AS ATIVIDADES COM BASTANTE CAPRICO!!!

OBSERVE AS PÁGINAS 32 E 33 DO LIVRO DE GEOGRAFIA E RESPONDA AS QUESTÕES.

