



ATIVIDADE COMPLEMENTAR Nº 01 – HISTÓRIA

NOME: _____

PROFESSORA: SUSANA

DATA: ____ / ____ / 2.021

TURMA: CLASSE ESPECIAL

TURNO: MANHÃ

⇒ LEIA O TEXTO ABAIXO. SE PRECISAR, PEÇA AJUDA DE UM ADULTO PARA REALIZAR A LEITURA DESSE TEXTO:

TEMPO CRONOLÓGICO E TEMPO HISTÓRICO

O TEMPO CRONOLÓGICO É DEFINIDO COMO O TEMPO ONDE SE DESENVOLVEM AS ATIVIDADES HUMANAS: NASCIMENTO, CRESCIMENTO, IR PARA A ESCOLA, AS FESTAS, ETC.

O TEMPO HISTÓRICO SÃO OS ACONTECIMENTOS QUE MARCAM UM POVO, UMA NAÇÃO, OU ÀS VEZES A HUMANIDADE.

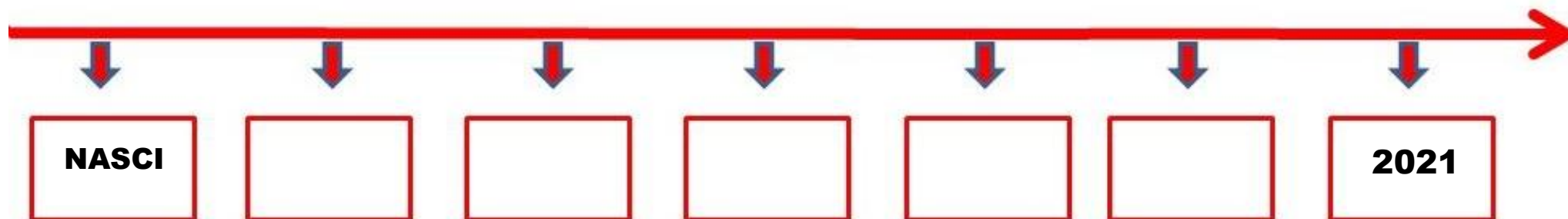
DISPONÍVEL EM <https://www.todamateria.com.br/>

⇒ REGISTRE NO QUADRO ABAIXO A SUA ROTINA, ANOTANDO OU DESENHANDO AS PRINCIPAIS ATIVIDADES QUE VOCÊ FAZ NOS PERÍODOS INDICADOS:

MANHÃ	TARDE	NOITE

⇒ CONSTRUA A SUA LINHA DO TEMPO, COM INFORMAÇÕES SOBRE OS ACONTECIMENTOS QUE MARCARAM A SUA VIDA, DESDE O SEU NASCIMENTO ATÉ HOJE. VOCÊ PODE COLOCAR A DATA DO SEU NASCIMENTO, QUANDO VOCÊ COMEÇOU A FALAR OU ANDAR, SEU PRIMEIRO PASSEIO, SEU PRIMEIRO ANIVERSÁRIO, QUANDO COMEÇOU A IR PRA ESCOLA, ETC.

USE A SUA CRIATIVIDADE, DESENHE E ESCREVA OS ANOS E INFORMAÇÕES QUE CONSIDERAR MAIS IMPORTANTE.





ATIVIDADE COMPLEMENTAR Nº 01 – LÍNGUA PORTUGUESA

NOME: _____

PROFESSORA: SUSANA

DATA: ____ / ____ / 2.021

TURMA: CLASSE ESPECIAL

TURNO: MANHÃ

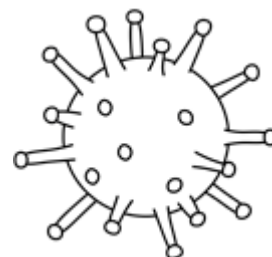
1) LEIA O TEXTO ABAIXO.

SE PRECISAR, PEÇA AJUDA A UM ADULTO PARA FAZER A LEITURA.

O QUE É O CORONAVÍRUS?

CORONAVÍRUS É UMA FAMÍLIA DE VÍRUS QUE CAUSAM INFECÇÕES RESPIRATÓRIAS.

O NOVO AGENTE DO CORONAVÍRUS FOI DESCOBERTO EM 31/12/2019 APÓS CASOS REGISTRADOS NA CHINA. PROVOCA A DOENÇA CHAMADA DE CORONAVÍRUS – COVID-19. RECEBE ESSE NOME DEVIDO A SUA SUPERFÍCIE QUE LEMBRA UMA COROA.





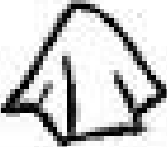



Disponível em <https://br.pinterest.com/pin/798263102692049247/>

2) ENCONTRE NO CAÇA –PALAVRAS ABAIXO, ALGUNS DOS PRINCIPAIS SINTOMAS DO CORONAVÍRUS:


C	V	B	N	M	K	O	L	J	K
V	F	R	E	S	W	T	Y	S	D
V	G	R	S	E	Q	O	W	A	Z
V	C	Z	S	X	F	S	C	V	W
I	J	N	M	J	A	S	W	D	Ç
Y	V	X	C	E	D	E	E	R	T
P	I	O	U	Y	F	E	B	R	E
R	E	S	P	I	R	A	Ç	Ã	O


FEBRE – TOSSE – DIFICULDADES NA RESPIRAÇÃO


3) ESCREVA OS NOMES DOS DESENHOS:

4) OBSERVE AS IMAGENS E ESCREVA UMA FRASE PARA CADA IMAGEM, REFORÇANDO OS CUIDADOS PARA PREVENIR A COVID-19:



ATIVIDADE COMPLEMENTAR Nº 01 – MATEMÁTICA

NOME: _____

PROFESSORA: SUSANA

DATA: ____ / ____ / 2.021

TURMA: CLASSE ESPECIAL


TURNOS: MANHÃ

1. OBSERVE E LEIA OS NÚMEROS DO QUADRO ABAIXO:

7	10	33	14	5	100
19	20	41	30	55	50
12	22	60	72	88	94

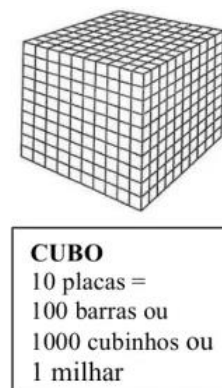
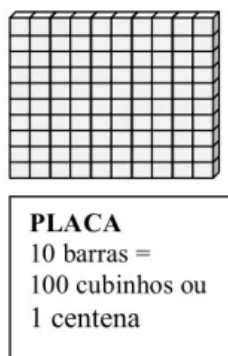
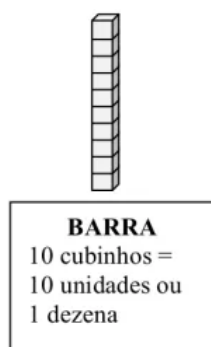
2. SOBRE OS NÚMEROS DO QUADRO ANTERIOR, PINTE DE VERDE O MAIOR E DE AZUL O MENOR.

3. CIRCULE A FILEIRA EM QUE OS LÁPIS ESTÃO ORGANIZADOS DO MAIS FINO PARA O MAIS GROSSO:

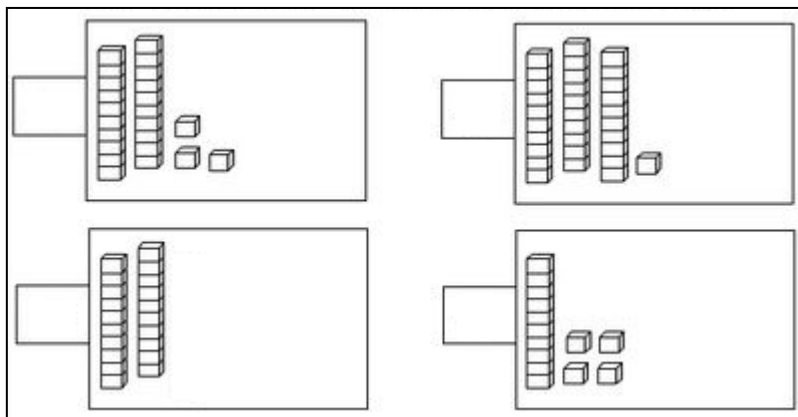


4. RELEMBRANDO:

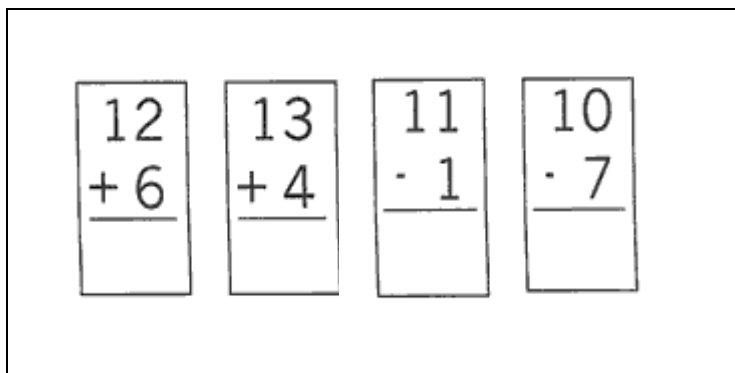
MATERIAL DOURADO



5. ESCREVA OS NÚMEROS CORRESPONDENTES:



6. RESOLVA AS OPERAÇÕES:



7. RESOLVA OS PROBLEMAS:

A) MARIANA COMEU 17 BALAS E RENATA COMEU 5. QUANTAS BALAS ELAS COMERAM JUNTAS?

B) TIAGO TINHA 19 FIGURINHAS. DEU 10 PARA SEU IRMÃO. QUANTAS FIGURINHAS TIAGO TEM AGORA?