



ESCOLA MUNICIPAL MARINGÁ

CURITIBA, _____ DE _____ DE 2021.

NOME COMPLETO: _____

PROFESSORA: _____ TURMA: _____

ATIVIDADE DE MATEMÁTICA 10 – 2º ANO

OLÁ CRIANÇAS, ESPERO QUE TODOS ESTEJAM BEM E SE CUIDANDO.
VAMOS PARA MAIS UMA ATIVIDADE DE MATEMÁTICA? NAS AULAS DE
MATEMÁTICAS APRENDEMOS MUITAS COISAS LEGAIS, NÃO É MESMO!?
ENTÃO VAMOS PRATICAR UM POUCO MAIS?



ESSA É A TABELA DO 2º ANO, VAMOS VER QUAL O ANIMAL PREFERIDO DA TURMA?

ANIMAL PREFERIDO – 2º ANO		
ANIMAIS	NÚMERO DE VOTOS	
		TOTAL EM NÚMEROS
GIRAFA 		5
ELEFANTE 		4
LEÃO 		8
JACARÉ 		3





1. OBSERVE A TABELA E RESPONDA:

A. QUAIS O ANIMAL PREFERIDO DA TURMA? _____

B. QUAL O ANIMAL MENOS VOTADO? _____

C. QUANTOS VOTOS A GIRAFA GANHOU A MAIS QUE O JACARÉ? _____

D. QUANTOS VOTOS O LEÃO E O ELEFANTE TÊM JUNTOS? _____

8				
7				
6				
5				
4				
3				
2				
1				
				

E. DE ACORDO COM A QUANTIDADE DE VOTOS QUE CADA ANIMAL GANHOU,
PREENCHA O GRÁFICO PINTANDO A QUANTIDADE DE RETÂNGULOS
CORRESPONDENTE:

ONTEM GANHEI UM LIVRO DE 64 PÁGINAS. JÁ LI 22 PÁGINAS. QUANTAS PÁGINAS AINDA FALTAM?

EM UMA GÔNDOLA DE SUPERMERCADO, HAVIA 46 SACOS DE FEIJÃO. O REPOSITOR COLOCOU MAIS 18 ANTES DE O MERCADO ABRIR. QUANTOS SACOS HÁ AGORA NA GÔNDOLA?

O(A) ESTUDANTE REALIZOU AS ATIVIDADES: () COM POUCO AUXÍLIO () COM MUITO AUXÍLIO

BONS ESTUDOS!!!

